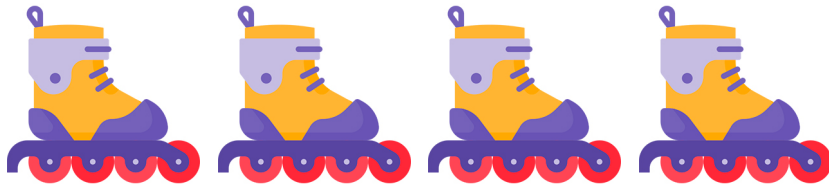


DESCOBREIX QUANTS N'HI HA EN TOTAL:



Hi ha _____ testos. Cada test té _____ flors. En total hi ha _____ flors.




Hi ha _____ patins. Cada patí té _____ rodes. En total hi ha _____ rodes.



Hi ha _____ patinets. Cada patinet té _____ rodes. En total hi ha _____ rodes.

Nom: _____ Data: _____ / _____ / _____ Curs: _____ Ho he fet sol/a He necessitat ajuda Ho he de repassar


DESCOBREIX QUANTS N'HI HA EN TOTAL:



Hi ha _____ mans. Cada mà té _____ dits. En total hi ha _____ dits.




Hi ha _____ gelats. Cada gelat té _____ boles. En total hi ha _____ boles.



Hi ha _____ flors. Cada flor té _____ pètals. En total hi ha _____ pètals.

Nom: _____ Data: _____ / _____ / _____ Curs: _____ Ho he fet sol/a He necessitat ajuda Ho he de repassar

DESCOBREIX QUANTS N'HI HA EN TOTAL:



Hi ha _____ boles. Cada bola té _____ forats. En total hi ha _____ forats.



Hi ha _____ edificis. Cada edifici té _____ finestres. En total hi ha _____ finestres.



Hi ha _____ cistells. Cada cistell té _____ ous. En total hi ha _____ ous.

Nom: _____ Data: _____ / _____ / _____ Curs: _____ Ho he fet sol/a He necessitat ajuda Ho he de repassar

DESCOBREIX QUANTS N'HI HA EN TOTAL:



Hi ha _____ autobusos. Cada autobús té _____ finestres. En total hi ha _____ finestres.



Hi ha _____ nius. Cada niu té _____ ous. En total hi ha _____ ous.



Hi ha _____ gelats. Cada gelat té _____ boles. En total hi ha _____ boles.

Nom: _____ Data: _____ / _____ / _____ Curs: _____ Ho he fet sol/a He necessitat ajuda Ho he de repassar